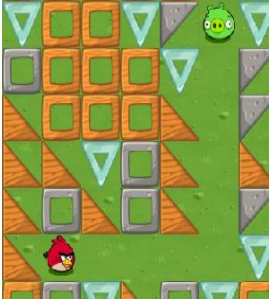


2022-2023 ÖĞRETİM YILI AZİZ MAHMUT HUDAYİ İMAM HATİP ORTAOKULU BİLİŞİM TEKNOLOJİLERİ VE YAZILIM DERSİ 5.SINIF 2. DÖNEM 1. SINAV ÇALIŞMA KAĞIDI



1. Yandaki şekli inceleyiniz. Kuşun hedefe ulaşması için gerekli olan kodun aşağıdakilerden hangisi olduğunu bulunuz.(10p)

- A) Çalıştığı zaman
Tekrarla 3 kez tekrarla
yap ilerle
sağa dön
ilerle
- B) Çalıştığı zaman
Tekrarla 3 kez tekrarla
yap ilerle
ilerle
sağa dön
- C) Çalıştığı zaman
Tekrarla 3 kez tekrarla
yap sağa dön
ilerle
ilerle
- D) Çalıştığı zaman
Tekrarla 3 kez tekrarla
yap sağa dön
ilerle
sola dön



2. Kuşun hedefe ulaşması için gerekli olan kodun aşağıdakilerden hangisi olduğunu bulunuz. (10p)

- A) Çalıştığı zaman
bu işlemleri 4 kez tekrarla
yap ilerle
sola dön
bu işlemleri 5 kez tekrarla
yap ilerle
- B) Çalıştığı zaman
bu işlemleri 4 kez tekrarla
yap ilerle
sola dön
bu işlemleri 5 kez tekrarla
yap ilerle
- D) Çalıştığı zaman
bu işlemleri 4 kez tekrarla
yap ilerle
sola dön
ilerle
- D) Çalıştığı zaman
bu işlemleri 4 kez tekrarla
yap ilerle
bu işlemleri 5 kez tekrarla
yap ilerle

3) Aşağıdakilerden hangisi kodlama üzerine çalışmalar yapabileceğimiz bir internet sitesidir?(10p)

- A) meb.gov.tr
B) studio.code.org
C) e-okul.meb.gov.tr
D) mynet.com



4. Yandaki şekli inceleyiniz. Kuşun hedefe ulaşması için gerekli olan kodun aşağıdakilerden hangisi olduğunu bulunuz. (10p)

- A) Çalıştığı zaman
ilerle
ilerle
ilerle
- B) Çalıştığı zaman
Tekrarla 5 kez tekrarla
yap ilerle
ilerle
ilerle
- C) Çalıştığı zaman
Tekrarla 5 kez tekrarla
yap ilerle
- D) Çalıştığı zaman
Tekrarla 5 kez tekrarla
yap ilerle
sola dön

					İleri
					İleri
			1		Sağa Dön
				2	İleri
				3	Sola Dön
				4	İleri
					İleri
					Sağa Dön

6)Verilen kodlara göre Angry Birds kaç numaralı hedefe ulaşır? (10p)

- A) 1 B) 2
C) 3 D)4

7. Powerpoint ne tür bir programdır?

- a) Sunu hazırlama programıdır. b) Tablo - grafik programıdır.
b) Kelime işlem programıdır. d) İşletim sistemidir.

8. Power point programının kullanım amacı aşağıdakilerden hangisidir?

- a) Resim yapmak
b) Hesaplama yaptırmak ve tablo oluşturmak
c) Bir konuyu anlatmak için sunum hazırlamak
d) Bilgisayarda yazı yazmak

9. Powerpoint programında her bir boş sayfaya ne denir?

- A) Sayfa B) Tablo C) Slayt D) Dosya

10. PowerPoint programında slaydımızdaki öğelere çeşitli hareketler uygulamak için bu öğelere ne eklenmelidir?

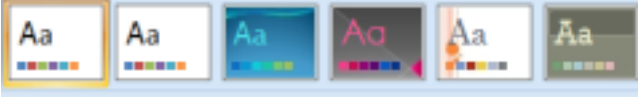
- A) Ses B) Şekil C) Köprü D) Animasyon

11. Slayda resim eklemek için hangi yol izlenmelidir?

- a) Ekle-Resim
b) Görünüm-Resim
c) Dosya-Resim
d) Araçlar-Resim Ekle

12. Elif öğretmenin verdiği performans görevini bilgisayarda hazırlamaya karar verdi. Resim ve yazıları hareketli bir şekilde hazırlamak istiyor. Bunun için hangi programı kullanmalıdır?

- A) Microsoft Office Word
B) Paint
C) Microsoft Office Powerpoint
D) Windows 7



13.

Microsoft Powerpoint programında yukarıdaki bölümden slaytlara ne eklenir?

- A) Animasyon B) Slayt geçişi
C) Şekil D) Slayt tasarımı

14. Aşağıda slayt gösterisi hazırlarken dikkat edilmesi gereken kurallarla ilgili verilenlerden hangisi yanlıştır?

- A) Animasyon hızları insanı sıkmayacak hızda olmalıdır.
B) Koyu renkli arkaplan üzerine koyu, açık renkli arkaplan üzerine açık renkli yazı yazılmalıdır.
C) Slaytlarda dikkati dağıtacak kadar çok animasyon kullanılmamalıdır.
D) Slaytlarda sadece özet bilgiler bulunmalıdır.

15. Aşağıdakilerden hangisi powerpointte slaytlara resim ekleme yollarından biri değildir?

- A) Tasarım menüsünden slayt tasarımı eklemek
B) İnternette resmi kopyala yapıştır yapmak
C) Ekle menüsünden küçük resim'e tıklamak
D) Ekle menüsünden resim'e tıklamak

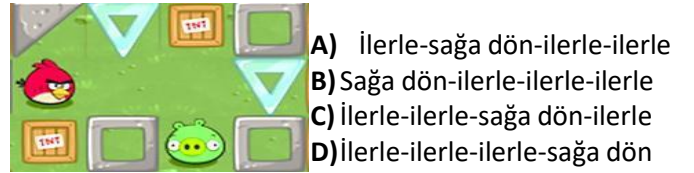
16. Powerpoint programında köprü ne işe yarar?

- A) Animasyon eklemeyi sağlar.
B) Slayt gösterisini başlatmayı sağlar.
C) Tıklayarak slaytlar arasında geçiş yapmayı sağlar.
D) Yeni slayt eklemeyi sağlar

17. Kuşun hedefine ulaşması için, verilen kod bloğunda ? olan yere hangi sayı gelmelidir?



18. Kuş karakterini hedefe ulaştırmak için doğru kod bloğu hangisidir?



19. Kuş karakterini hedefe ulaştırmak için doğru kod bloğu hangisidir?

